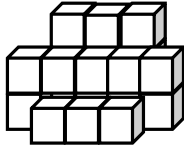


7-10 Yaş

Zeka Testi

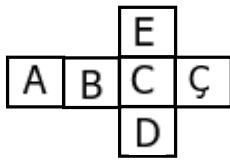
1)



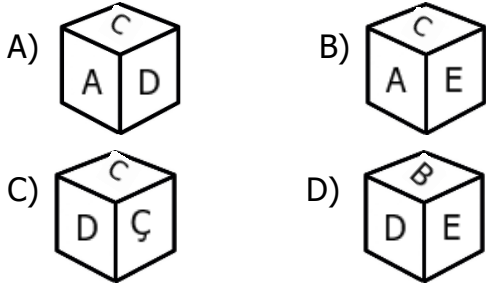
Yukarıdaki şekilde kaç tane birim küp vardır?

- A) 19 B) 20 C) 21 D) 22

2)

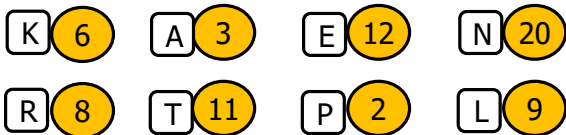


Yukarıda açılımı verilen küp aşağıdakilerden hangisidir ?



3)

$$\bigcirc + \bigcirc + \bigcirc = 27$$



Yukarıdaki üç sayı kullanılarak toplam 27 elde edilmek isteniyor. Bu durumda hangi kelime ortaya çıkar ?

- A) TEN B) KAN C) TEL D) KEL

4) Bir koşu yarışmasında 7. sırada olan Soner 6. ve 5.'yi geçerse kaçınıncı olur ?

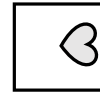
- A) 5. B) 6. C) 4. D) 7.

5) $\heartsuit + \heartsuit = 8$ $\star\star + \heartsuit\heartsuit = 18$
 $\diamond + \star = 13$ $\diamond + \heartsuit = ?$

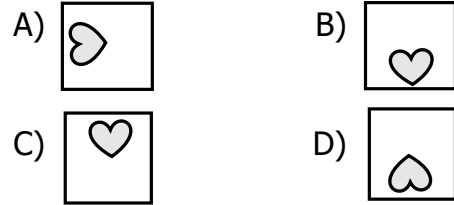
Yukarıdaki işlemlere göre son işlemin toplamı kaçtır?

- A) 16 B) 13 C) 12 D) 15

6)



Yukarıdaki şekil saat yönünde döndürülürse aşağıdaki şekillerden hangisi **oluşmaz** ?




7)

Kasap → Et
Eczacı → ?

Kelimelerin arasındaki ilişkiye göre soru işareti yerine aşağıdakilerden hangisi gelmelidir ?

- A) ilaç B) şampuan
C) meyve D) pasta

8)



Görseller arasındaki ilişkiye göre soru işareti yerine aşağıdakilerden hangisi gelmelidir ?

